





		Anzahl Punkte maximal	Punkte erreicht
Übertrag		29	
<b>Aufgabe 14</b>			
Ordnen Sie folgende Sicherungstypen den entsprechenden Bildern zu.			
Kippsicherungen	Feinsicherung	Schmelzsicherung	FI-Sicherung
			
			
			
			
<b>Aufgabe 15</b>			
Beschreiben Sie die Wartung einer Entkalkungsanlage.			
1)	_____		
2)	_____		
Übertrag		33	

2

2